

## **Gestufte Hilfen**

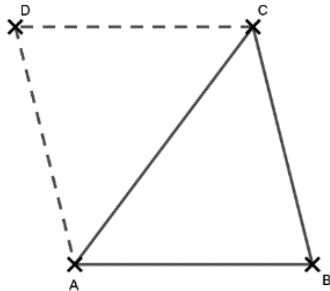
*Tipp 1 - gibt euch einen kleinen Denkanstoß*

*Tipp 2 - geht schon mehr ins Detail*

*Tipp 3 - gibt euch eine genaue Richtung zur Lösung vor*

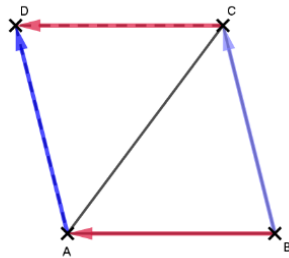
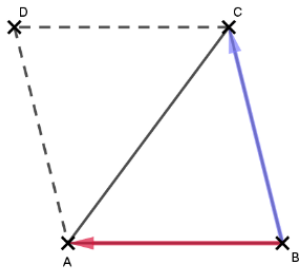
Ganz Verzweifelte können euch im LB oder im Internet suchen - ich bin mir aber sicher, dass ihr das selbstständig schafft. 😊

## Tipp 1:



Definition Vektor?/  
Was macht ein  
Vektor?

## Tipp 2:



### **Tipp 3:**

Variante 1:

Verschiebung des Punktes A mithilfe des  
Vektors  $\overrightarrow{BC}$

Variante 2:

Verschiebung des Punktes C mithilfe des  
Vektors  $\overrightarrow{BA}$