

Hallo liebe 6b,

nur noch diesen Freitag arbeiten, dann könnt ihr, hoffentlich auch einmal ohne an die Schule zu denken, in die Weihnachtsferien abtauchen. Und wenn ihr dann vielleicht Mandarinen, Äpfel oder Nüsse esst, seid ihr nach dieser Bio-Doppelstunde gleich ein bisschen schlauer und könnt erklären, wie sich Früchte überhaupt bilden.

Und das ist auf diese Art zu lernen:

----- die Kopien habt ihr eigentlich von mir bereits bekommen-----

1. **Lest** im Lehrbuch S. 200 bis 201 **und schaut** euch die Abbildungen 02 -05 genau an.
2. **Bearbeitet** Aufgaben 1 und 2 auf Seite 202.
3. **Bastelt** ein Daumenkino, welches aus dem Fruchtbildungsprozess einen kleinen Film macht. **Schneidet** dazu alle 22 Karten aus.
Ihr klebt die Karten **hintereinander** (S. 1 oben, S. 2 dahinter usw. die letzte Karte hinten im Buch bzw. unten im Stapel ist Nr. 22) auf: dazu macht ihr **Kleber** auf den Bereich links auf jeder Karte, in dem die Seitenzahl steht, bis zur gestrichelten Linie.
An jeder gestrichelten Linie könnt ihr einmal knicken, dann lassen sich die Seiten leichter zum Film „ratschen“.



Film ab: die linke Hand hält den Stapel, mit dem Daumen der rechten Hand dreht ihr die Seiten so weit nach hinten, bis die einzelnen Karten schnell nacheinander nach vorn schnippen.

4. **Beschriftet** die Arbeitsblätter 1 und 2.

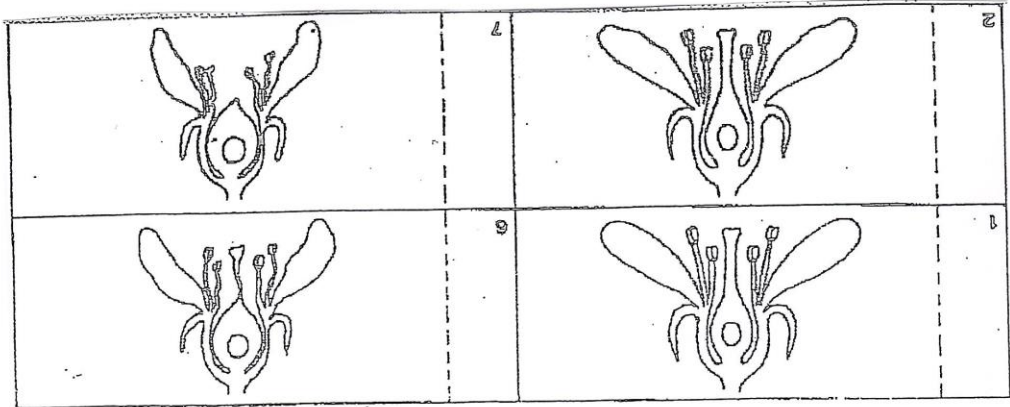
Und jetzt macht ihr euch schöne quarantänefreie Weihnachtsfeiertage!

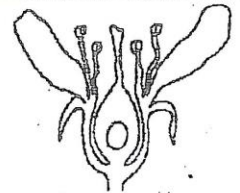

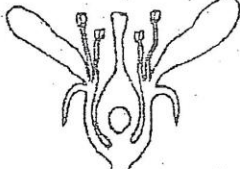

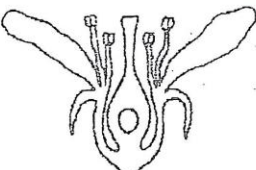
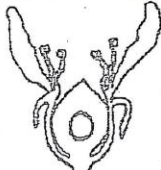
Kommt gut ins neue Jahr!


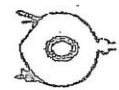

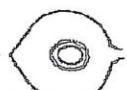

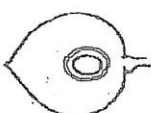
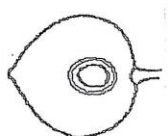
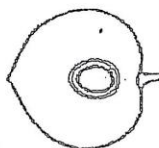
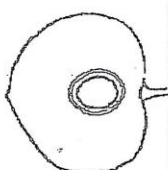
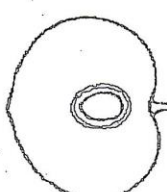
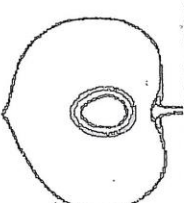
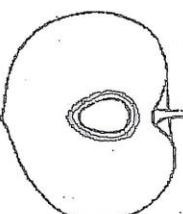
Es grüßt euch herzlich

Frau Kahl

Blank header area with faint grid lines and illegible text.

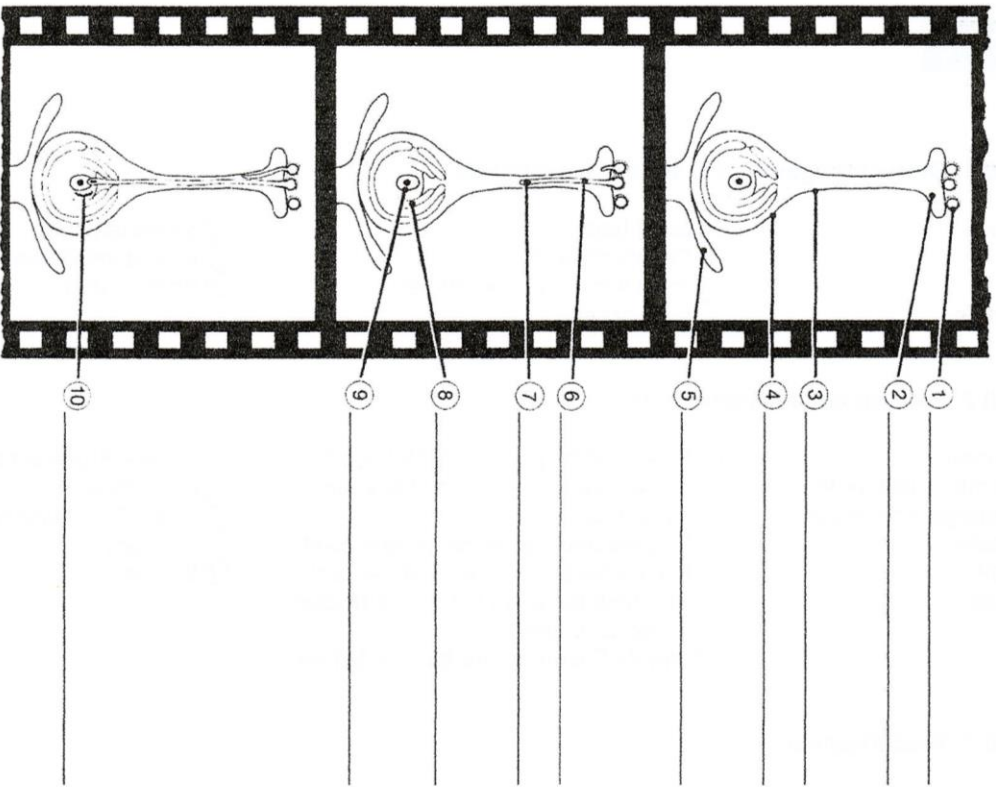


5		10	
4		9	
3		8	

11		12	
13		14	
15		16	
17		18	
19		20	
21		22	

ARBEITSBLATT 1 Befruchtungsvorgang bei der Kirschlüte

Beschrifte die Zeitraster-Filmbilder (Schemata) über den Befruchtungsvorgang!



ARBEITSBLATT 2 Reifung einer Kirschrucht

Beschrifte die Zeitraster-Filmdarstellung über die Reifung der Kirsche!

